



## RAILWAY RECRUITMENT BOARDS

रेलवे भर्ती बोर्ड

## RRB NTPC Graduate 19th Jan 2017 Shift 1

Roll No:	
Participants Name:	
Test Center Name:	
Test Date:	19/01/2017
Test Time:	9:00 AM - 10:30 AM
Subject:	RRB NTPC Graduate

1. Options shown in green color with a tick icon are correct  
2. Chosen option on top right of the question indicates the option selected by the candidate

**Q.1** A monkey sitting on a branch of a tree suddenly falling down towards the ground is an example of \_\_\_\_\_.  
एक पेड़ की शाखा पर बैठे एक बंदर का अचानक जमीन की ओर नीचे गिरना \_\_\_\_\_ का एक उदाहरण है।

Question ID : 9888374641

Status : Answered

Chosen Option : 2

- Ans**
- ☒ 1. Law of conservation of mass  
संहति-संरक्षण के नियम
  - ☒ 2. Law of conservation of energy  
ऊर्जा-संरक्षण के नियम
  - ☒ 3. Kepler's laws  
केपलर के नियमों
  - ☒ 4. Newton's third law of motion  
न्यूटन के गति के तीसरे नियम

**Q.2** If ABSENT = BDIVSZ, then SCHOOL will be coded as:  
यदि ABSENT = BDIVSZ है, तो SCHOOL का कोड क्या है?

Question ID : 9888374706

Status : Answered

Chosen Option : 3

- Ans**
- ☒ 1. TEKRRS
  - ☒ 2. TKERTS
  - ☒ 3. TEKSTR
  - ☒ 4. TKESSR

**Q.3** 0.1, 0.9, 0.01, 0.09, \_\_\_\_\_, 0.009

Question ID : 9888374701

Status : Answered

Chosen Option : 2

- Ans**
- ☒ 1. 0.1010
  - ☒ 2. 0.001
  - ☒ 3. 0.0001
  - ☒ 4. 0.01

**Q.4** If P means 'subtraction', Q means 'division', R means 'addition' and S means 'multiplication', then 15 Q 3 R 24 P 12 S 2 = ?

Question ID : 9888374708

Status : Answered

Chosen Option : 4

यदि P का अर्थ 'घटाव' है, Q का अर्थ 'भाग' है, R का अर्थ 'जोड़' और S का अर्थ 'गुणा' है, तो 15 Q 3 R 24 P 12 S 2 = ?

- Ans**
- ☒ 1. 7
  - ☒ 2. 29
  - ☒ 3. 9
  - ☒ 4. 5

Q.5 Rhinoscope is an instrument for examining the \_\_\_\_\_.

राइनोस्कोप \_\_\_\_\_ की जाँच करने का एक उपकरण है।

- Ans
- ☒ 1. Nose  
नाक
  - ☐ 2. Eyes  
आँख
  - ☐ 3. Brain  
मस्तिष्क
  - ☐ 4. Ears  
कान

Question ID : 9888374645

Status : Marked For Review

Chosen Option : 4

Q.6 Simplify:  $x(x-2)+3x(x-3)$

सरल कीजिए :  $x(x-2)+3x(x-3)$

- Ans
- ☒ 1.  $4x^2 - 11x$
  - ☐ 2.  $4x^2 + 5x$
  - ☐ 3.  $4x^2 + 11x$
  - ☐ 4.  $4x^2 - 5x$

Question ID : 9888374687

Status : Answered

Chosen Option : 1

Q.7 The cash difference between the selling price of an article at a profit of 8% and 10% is Rs.3. The ratio of two selling prices is:

एक वस्तु को 8% तथा 10% के लाभों में बेचने पर विक्रय मूल्यों में 3 रुपये का अन्तर है। दोनों विक्रय मूल्यों का अनुपात है :

- Ans
- ☐ 1. 54:59
  - ☒ 2. 54:55
  - ☐ 3. 54:57
  - ☐ 4. 54:56

Question ID : 9888374685

Status : Answered

Chosen Option : 2

Q.8 Mr. Ashwani sold a bus for Rs. 510 with a loss of 15 %. At what price should the bus be sold to get a profit of 15 %?

अश्विनी एक बस को 15% हानि पर 510 रुपये में बेचता है। 15% लाभ पाने के लिए उसे इस बस को किस मूल्य पर बेचना चाहिए?

- Ans
- ☐ 1. Rs. 650  
रु. 650
  - ☐ 2. Rs. 680  
रु. 680
  - ☐ 3. Rs. 700  
रु. 700
  - ☒ 4. Rs. 690  
रु. 690

Question ID : 9888374683

Status : Answered

Chosen Option : 4

Q.9 What is NOT true regarding the voting rights under the democratic system in India?

भारत की लोकतांत्रिक प्रणाली के तहत मतदान के अधिकार के संबंध में निम्न में से कौन-सा कथन सत्य नहीं है?

- Ans
- ☒ 1. Those who are deemed unsound of mind can also vote  
मानसिक रूप से अस्वस्थ लोग भी मतदान कर सकते हैं
  - ☐ 2. Only people with their names on the electoral roll are allowed to vote  
केवल उन लोगों को मतदान की अनुमति है जिनके नाम मतदाता सूची में हों
  - ☐ 3. Any citizen over the age of 18 can vote  
18 वर्ष से अधिक आयु का कोई भी नागरिक मतदान कर सकता है
  - ☐ 4. There is no gender discrimination  
इसमें कोई लैंगिक भेदभाव नहीं है

Question ID : 9888374635

Status : Answered

Chosen Option : 3

Q.10 The theme of World Environment Day 2016 was:

विश्व पर्यावरण दिवस 2016 की थीम थी:

Ans ☒ 1. Green Economy: Does it include you?

☒ 2. हरित अर्थव्यवस्था: क्या इसमें आप शामिल हैं?

☒ 3. Zero tolerance for the illegal trade in wildlife

वन्य जीवों के अवैध व्यापार के लिए पूर्ण असहिष्णुता

☒ 4. Small Islands and Climate Change

छोटे द्वीप और जलवायु परिवर्तन

☒ 5. Seven Billion Dreams; One Planet; Consume with Care

सात अरब सपने; एक ग्रह; देखभाल के साथ उपभोग

Question ID : 9888374628

Status : Answered

Chosen Option : 4

Q.11 If A denotes 'add', B denotes 'subtract', C denotes 'multiply' and D denotes 'divide', which of the following is correct?

यदि A का अर्थ 'जोड़', B का अर्थ 'घटाव', C का अर्थ 'गुणा' और D का अर्थ 'भाग' है, तो इनमें से कौन-सा सही है?

Ans ☒ 1.  $36 C 4 D 8 B 7 A 4 = 10$

☒ 2.  $36 C 4 D 8 B 7 A 4 = 10$

☒ 3.  $16 C 12 A 49 D 7 B 9 = 200$

☒ 4.  $16 C 12 A 49 D 7 B 9 = 200$

☒ 5.  $8 C 8 A 8 D 8 B 8 = 57$

☒ 6.  $8 C 8 A 8 D 8 B 8 = 57$

☒ 7.  $32 D 8 C 9 = 160 B 12 C 12$

☒ 8.  $32 D 8 C 9 = 160 B 12 C 12$

Question ID : 9888374709

Status : Answered

Chosen Option : 3

Q.12 18 men built a tanker in 25 days. How many days would it take for 10 men?

18 आदमी एक टैंकर को 25 दिनों में बनाते हैं। 10 आदमी इसी टैंकर को कितने दिनों में बना सकते हैं?

Ans ☒ 1. 45.2

☒ 2. 45

☒ 3. 45.1

☒ 4. 46

Question ID : 9888374674

Status : Answered

Chosen Option : 2

Q.13 If COME is coded as EMOC, then TRAIN is coded as:

यदि COME को EMOC के रूप में कोड किया जाता है, तो TRAIN को \_\_\_\_\_ के रूप में कोड किया जाएगा।

Ans ☒ 1. NRIAT

☒ 2. NIART

☒ 3. NIRAT

☒ 4. NAIRT

Question ID : 9888374707

Status : Answered

Chosen Option : 2

Q.14 Choose the odd one from the following:

निम्नलिखित में से क्या अन्य से मेल नहीं खाता?

Ans ☒ 1. HOCKEY

☒ 2. हॉकी

☒ 3. FOOTBALL

☒ 4. फुटबॉल

☒ 5. CHESS

☒ 6. शतरंज

☒ 7. BASEBALL

☒ 8. बेसबॉल

Question ID : 9888374711

Status : Answered

Chosen Option : 3

Q.15 Which of the following is NOT a modifier key in an IBM compatible computer?

निम्न में से कौन-सी कुंजी (की) आईबीएम संगत कंप्यूटर की मॉडिफायर कुंजी नहीं है?

- Ans
- ☒ 1. Ctrl
  - ☒ 2. Windows key
  - ☒ 3. Tab
  - ☒ 4. Shift

Question ID : 9888374653

Status : Marked For Review

Chosen Option : 2

Q.16 Which one does NOT belong to the category of metallic minerals?

निम्न में से क्या धात्विक खनिजों की श्रेणी से संबंधित नहीं है?

- Ans
- ☒ 1. Coal  
कोयला
  - ☒ 2. Nickel  
निकल
  - ☒ 3. Bauxite  
बॉक्साइट
  - ☒ 4. Tin  
टिन

Question ID : 9888374649

Status : Answered

Chosen Option : 1

Q.17 Q3C, S5E, U8G, W12I, \_\_\_\_\_

- Ans
- ☒ 1. X17K
  - ☒ 2. Y15K
  - ☒ 3. Z15K
  - ☒ 4. Y17K

Question ID : 9888374703

Status : Answered

Chosen Option : 4

Q.18 There are total 200 students in a school, of which  $\frac{3}{10}$  are boys. Find the number of girls in the school.

एक विद्यालय में 200 विद्यार्थी हैं, जिनमें से  $\frac{3}{10}$  भाग लड़के हैं। विद्यालय में लड़कियों की संख्या ज्ञात कीजिए।

- Ans
- ☒ 1. 140
  - ☒ 2. 60
  - ☒ 3. 40
  - ☒ 4. 120

Question ID : 9888374662

Status : Answered

Chosen Option : 1

Q.19 The engine of the \_\_\_\_\_, is the oldest working steam locomotive in the World.

\_\_\_\_\_ का इंजन, विश्व का सबसे पुराना कार्यशील भाप इंजन है।

- Ans
- ☒ 1. Palace on Wheels  
पैलेस ऑन व्हील्स
  - ☒ 2. Maharaja Express  
महाराजा एक्सप्रेस
  - ☒ 3. Fairy Queen  
फेयरी क्वीन
  - ☒ 4. Golden Chariot  
गोल्डन चेरियट

Question ID : 9888374660

Status : Answered

Chosen Option : 3

Q.20 Who won the 'Man Booker prize 2016' for the book *The Sellout*?



'द सेलआउट' नामक किताब के लिए 2016 का मैन बुकर पुरस्कार किसे मिला?

- Ans
- ☒ 1. J M Coetzee  
जे एम कोएट्ज़ी
  - ☒ 2. David Szalay  
डेविड शाले

Question ID : 9888374636

Status : Answered

Chosen Option : 4

-  3. Madeleine Thien  
 मेडेलीन थिएन  
 4. Paul Beatty  
 पॉल बेट्टी

**Q.21** In a class test, a student scored 8 marks out of 25 marks. The student's marks in percentage is:  
 एक परीक्षा में एक विद्यार्थी 25 में से 8 अंक अर्जित करता है। विद्यार्थी के अंक प्रतिशत में है:

- Ans
-  1. 29  
 2. 32  
 3. 35  
 4. 30

Question ID : 9888374686

Status : Answered

Chosen Option : 2

**Q.22** Below are given statements followed by some conclusions. You have to take the given statements to be true even if they seem to be at variance with the commonly known facts and then decide which of the given conclusions logically follow(s) from the given statements.

**Statements:**

All women are married.

Some women are educated.

**Conclusions:**

I. Some married are educated.

II. Some educated are married.

नीचे कुछ कथन और उनके निष्कर्ष दिए गए हैं। आपको इन कथनों को सच मानना है भले ही वे सामान्यतः ज्ञात तथ्यों से भिन्न लगते हों, और फिर यह तय करना है कि दिए गए कौन-से निष्कर्ष इन कथनों का तार्किक रूप से पालन करते हैं।

**कथन:**

सभी महिलाएँ विवाहित हैं।

कुछ महिलाएँ शिक्षित हैं।





**निष्कर्ष:**

I. कुछ विवाहित शिक्षित हैं।

II. कुछ शिक्षित विवाहित हैं।

Ans

**Only conclusion II follows**

-  1. केवल निष्कर्ष II पालन करता है  
 2. **Only conclusion I follows**  
 केवल निष्कर्ष I पालन करता है  
 3. **Either only I or only II follows**  
 या तो केवल I या केवल II पालन करता है  
 4. **Both I and II follow**  
 I और II दोनों पालन करते हैं

Question ID : 9888374720

Status : Answered

Chosen Option : 4

**Q.23**

Question ID : 9888374732

Status : Answered

Chosen Option : 4

A question and two statements labeled (I), (II) are given. You have to decide which statement(s) is/are sufficient to answer the question.

Ans Statement II alone is sufficient.

1. अकेला कथन II पर्याप्त है।  
II. The scheduled departure is at 10.30 hrs.  
Data insufficient

2. सूचना अपर्याप्त है।) और (II) दिए गए हैं। आपको यह नीचे एक

3. Statement I alone is sufficient. के लिए कौन-सा/कौन-से अकेला कथन I पर्याप्त है।

Both the statements together are needed.

दोनों कथन आवश्यक हैं।

I. ट्रेन सामान्यतः ज्ञान संभव पर चलता है।

Q.24 What is 15% of 38? 15.30 बजे है।

38 का 15% क्या है?

- Ans 1. 6  
2. 5.5  
3. 5.7  
4. 5

Question ID : 9888374688

Status : Answered

Chosen Option : 3

Q.25 An ordinary magnet does not attract \_\_\_\_\_.

एक साधारण चुंबक \_\_\_\_\_ को आकर्षित नहीं करता है।

- Ans 1. Bronze  
काँसा  
2. Steel  
स्टील  
3. Iron  
लोहा  
4. Nickel  
निकल

Question ID : 9888374643

Status : Answered

Chosen Option : 1

Q.26 The main mountain ranges of India do NOT include:

भारत की मुख्य पर्वत श्रृंखलाओं में यह शामिल नहीं है:

- Ans 1. Vindhya  
विंध्य  
2. Hindu Kush  
हिंदु कुश  
3. Aravalli  
अरावली  
4. Satpura  
सतपुड़ा

Question ID : 9888374617

Status : Marked For Review

Chosen Option : 2

Q.27 Mr. Akhil invested Rs.13,500 in FD. How much will he get on maturity, if he invested it at 20% per annum compound interest for 6 months, compounded quarterly?



अखिल 13,500 रुपये एफडी में निवेश करता है। परिपक्वता होने पर उसे कुल कितनी राशि प्राप्त होगी, यदि उसने यह धनराशि 6 महीनों के लिए 20% वार्षिक चक्रवृद्धि ब्याज की दर पर निवेश की है और ब्याज तिमाही संयोजित होता है?

- Ans 1. Rs. 14,883.5  
रु. 14,883.5  
2. Rs. 14,883.35  
रु. 14,883.35

Question ID : 9888374682

Status : Answered

Chosen Option : 4

-  3. Rs. 14,883  
 रु. 14,883
-  4. Rs. 14,883.75  
 रु. 14,883.75





**Q.28** Bhumika takes a total of 8 hours 20 minutes in *walking* a distance and *cycling* back to same place where she started. She could *walk* both ways in 12 hours 15 minutes. The time taken by her to *cycle* both ways is:

भूमिका एक दूरी को पैदल तय करने और साइकिल से वापस शुरूआती स्थान पर आने में कुल 8 घंटे 20 मिनट का समय लेती है। वह दोनों ओर का रास्ता पैदल 12 घंटे 15 मिनट में तय कर सकती है। साइकिल पर दोनों ओर का रास्ता तय करने में उसे कुल कितना समय लगेगा?

Question ID : 9888374678





Status : Answered

Chosen Option : 1

- Ans**
-  1. 4 hours 25 min  
 4 घंटे 25 मिनट
-  2. 4 hours 45 min  
 4 घंटे 45 मिनट
-  3. 4 hours 35 min  
 4 घंटे 35 मिनट
-  4. 4 hours 15 min  
 4 घंटे 15 मिनट

**Q.29** Linux is an example of:

लिनक्स इसका एक उदाहरण है:

- Ans**
-  1. Operating System  
 ऑपरेटिंग सिस्टम
-  2. Assembly Language  
 असेंबली लैंग्वेज
-  3. Application Software  
 एप्लीकेशन सॉफ्टवेयर
-  4. Programming Language  
 प्रोग्रामिंग लैंग्वेज

Question ID : 9888374650

Status : Answered

Chosen Option : 1

**Q.30** The surface area (in sq.cm.) of a sphere with radius 1.5 cm is: ( Take  $\pi = \frac{22}{7}$  )

1.5 सेमी त्रिज्या वाले एक गोले का पृष्ठीय क्षेत्रफल (वर्ग सेमी में) क्या होगा? (  $\pi = \frac{22}{7}$  )

- Ans**
-  1. 190/21
-  2. 190/7
-  3. 198/21
-  4. 198/7





Question ID : 9888374691

Status : Answered

Chosen Option : 4

**Q.31** Some of the greatest scientists gathered in the 1940s to figure out how to refine uranium and build an atomic bomb. What was their work called?

1940 के दशक में कुछ महानतम वैज्ञानिक यूरेनियम को परिष्कृत करने और परमाणु बम के निर्माण के लिए एकत्र हुए। उनके काम को क्या कहा गया?

- Ans**
-  1. Pearl Harbour Project  
 पर्ल हार्बर प्रोजेक्ट
-  2. Atomic Heritage  
 परमाणु विरासत (एटॉमिक हेरिटेज)
-  3. Los Alamos Project  
 लॉस एलामोस प्रोजेक्ट
-  4. Manhattan Project  
 मैनहट्टन प्रोजेक्ट

Question ID : 9888374647

Status : Not Attempted and Marked For Review

Chosen Option : --



# Study Kit for Railway Recruitment Board Exams

- 100% Syllabus Covered
- 4 Booklets
- 950+ Pages
- One Year Current Affairs (Only PDF no Hard Copy)

Price of the Kit  
₹ 6,000 ₹ 1999

For Any Guidance Call our Expert at : +91 8800734161, 011-45151781

## Study Kit for Railway Recruitment Board (RRB) Exams

### What you will get:

- 100% Syllabus Covered in printed format.
- 4 Booklets
- 950+ Pages
- **One Year Current Affairs (PDF Copy)**
- Guidance & Support from Our Experts (via Call and Email)

### Our Objectives:

- Firstly to cover 100% syllabus of the Examination.
- Secondly to compile all the required study materials in a single place, So to save the precious time of the aspirants.

**For More Information Click Given below link:**

<http://www.rrbportal.com/study-kit>



## Online Coaching for Railway Recruitment Board Exams

- 100% Syllabus Covered
- Home assignment
- Important current Affairs Materials
- Online Tests will be conducted after the end of each subject

**Price of Online Coaching**  
**₹ 1999 ₹ 499**

**For Any Guidance Call our Expert at : +91 8800734161, 011-45151781**

## Online Coaching for RRB Recruitment Exams

### What you will get:

1. All the relevant and required materials of subjects mention in the RRB syllabus like:
  - 100% RRB Exam Syllabus Covered with MCQs.
  - Special Current Affairs.
2. Home assignment
3. Important current affairs materials for RRB Examination will be provided
4. Online Tests will be conducted after the end of each subject.
5. At the end of your course, five comprehensive test will be conducted to evaluate your performance.

### Our Objectives:

- Firstly to cover 100% syllabus of the Examination.
- Secondly to compile all the required study materials in a single place, So to save the precious time of the aspirants.

### Our Strategy:

- Content of every section of the syllabus is developed after a exhaustive research of last year Question Papers.
- Every section is covered with practice set.

**For More Information Click Given below link:**

<http://rrbportal.com/online-coaching>

Q.32 Which one of the following is a navigation satellite?

निम्न में से कौन-सा एक नेविगेशन उपग्रह है?

- Ans ☒ 1. IRNSS  
☒ 2. SLV-3  
☒ 3. GSLV  
☒ 4. PSLV

Question ID : 9888374654

Status : Answered

Chosen Option : 1

Q.33 Mr. Ayush borrowed Rs. 3000 at 5% per annum compound interest. The compound interest compounded annually for 2 years is:

आयुष चक्रवृद्धि ब्याज की 5% वार्षिक दर पर 3000 रुपये उधार लेता है। 2 वर्ष का चक्रवृद्धि ब्याज क्या होगा यदि ब्याज वार्षिक संयोजित होता है?

- Ans ☒ 1. Rs. 370.5  
 रु. 370.5  
☒ 2. Rs. 3370.5  
 रु. 3370.5  
☒ 3. Rs. 307.5  
 रु. 307.5  
☒ 4. Rs. 3307.5  
 रु. 3307.5

Question ID : 9888374681

Status : Answered

Chosen Option : 3

Q.34 Complete the series:

AZCXE.....

श्रृंखला को पूरा करें:

AZCXE.....

- Ans ☒ 1. V  
☒ 2. F  
☒ 3. H  
☒ 4. W

Question ID : 9888374704

Status : Answered

Chosen Option : 1

Q.35 A woman invests Rs. 100 at the start of each year at 5% compound interest per annum. How much will her investment be, at the end of the 2<sup>nd</sup> year?

एक महिला प्रत्येक वर्ष की शुरुआत में 5% की चक्रवृद्धि ब्याज दर पर 100 रुपये का निवेश करती है। दूसरे वर्ष के अंत में उसका कुल निवेश कितना होगा?

- Ans ☒ 1. Rs. 215.25  
 रु. 215.25  
☒ 2. Rs. 215.75  
 रु. 215.75  
☒ 3. Rs. 215  
 रु. 215  
☒ 4. Rs. 215.5  
 रु. 215.5

Question ID : 9888374690

Status : Answered

Chosen Option : 1

Q.36 ACE : FHJ : : OQS : \_\_\_\_\_

- Ans ☒ 1. PRS  
☒ 2. TXV  
☒ 3. TVX  
☒ 4. RPS

Question ID : 9888374698

Status : Answered

Chosen Option : 3

Q.37 \_\_\_\_\_ island is the only active volcano of India.

\_\_\_\_\_ द्वीप भारत का एकमात्र सक्रिय ज्वालामुखी है।

- Ans ☒ 1. Oyster rock  
 ऑएस्टर रॉक

Question ID : 9888374619

Status : Not Attempted and Marked For Review

Chosen Option : --

- ☒ 2. Havelock  
हैवलॉक
- ☒ 3. Barren  
बैरेन
- ☒ 4. Viper  
वाइपर

Q.38 Divide Rs. 162 in the ratio 2:3:6:7. The rupees in the respective ratios are given by:

रु. 162 को 2:3:6:7 के अनुपात में बाँटें। संबंधित अनुपात में रुपये हैं:

- Ans ☒ 1. 18, 27, 53 & 64  
18, 27, 53 तथा 64
- ☒ 2. 18, 27, 55 & 62  
18, 27, 55 तथा 62
- ☒ 3. 18, 27, 54 & 63  
18, 27, 54 तथा 63
- ☒ 4. 18, 28, 53 & 63  
18, 28, 53 तथा 63

Question ID : 9888374672

Status : Answered

Chosen Option : 3

Q.39 Georges Lemaitre is related with the \_\_\_\_\_.

जार्ज लेमैत्रे \_\_\_\_\_ से संबंधित हैं।

- Ans ☒ 1. Big Bang theory  
बिग बैंग थ्योरी
- ☒ 2. Electric current  
विद्युत धारा
- ☒ 3. Solar system  
सौर मंडल
- ☒ 4. Deoxyribonucleic acid  
डिऑक्सीराइबोन्यूक्लिक अम्ल

Question ID : 9888374646

Status : Marked For Review

Chosen Option : 1

Q.40 PALE : LEAP :: POSH : \_\_\_\_\_

- Ans ☒ 1. SHOP
- ☒ 2. HSPO
- ☒ 3. POHS
- ☒ 4. HSOP

Question ID : 9888374699

Status : Answered

Chosen Option : 1

Q.41 \_\_\_\_\_ became the latest sports person to win four consecutive Olympic gold medals in the same event.

\_\_\_\_\_ एक ही प्रतियोगिता में लगातार चार ओलंपिक स्वर्ण पदक जीतने वाले नवीनतम खिलाड़ी बन गए/गई हैं।

- Ans ☒ 1. Michael Phelps  
माइकल फेलप्स
- ☒ 2. Larisa Latynina  
लरीसा लैटीनिना
- ☒ 3. Usain Bolt  
उसेन बोल्ट
- ☒ 4. Dipa Karmakar  
दीपा करमाकर

Question ID : 9888374638

Status : Answered

Chosen Option : 3

Q.42 \_\_\_\_\_, 9, 25, 49, 121, 169

- Ans ☒ 1. 4

Question ID : 9888374700

Status : Answered

✗ 2. 1

✗ 3. 3

✗ 4. 2

Chosen Option : 2

Q.43 TELEX stands for:

टेलेक्स इसका संक्षिप्त रूप है:

Ans

✗ 1. Telegram Express

टेलीग्राम एक्सप्रेस

✗ 2. Telecommunication Exchange

टेलीकम्यूनिकेशन एक्सचेंज

✓ 3. Teleprinter Exchange

टेलीप्रिंटर एक्सचेंज

✗ 4. Telephone Exchange

टेलीफोन एक्सचेंज

Question ID : 9888374656

Status : Answered

Chosen Option : 2

Q.44 Find the missing term of the sequence.

AB, BA, ABC, CBA, ABCD, \_\_\_\_\_

श्रृंखला में अनुपस्थित पद का पता लगाएँ।

AB, BA, ABC, CBA, ABCD, \_\_\_\_\_

Ans

✗ 1. DABC

✓ 2. DCBA

✗ 3. DBCA

✗ 4. DBAC

Question ID : 9888374702

Status : Answered

Chosen Option : 2

Q.45

Simplify:  $(7)^2 \div \left(7^{\frac{1}{2}}\right)^4$ सरल कीजिए :  $(7)^2 \div \left(7^{\frac{1}{2}}\right)^4$ 

Ans

✗ 1. 1/14

✓ 2. 1

✗ 3. 14

✗ 4. 7

Question ID : 9888374668

Status : Answered

Chosen Option : 2

Q.46 'Airlander 10', the World's largest hybrid airship, which had its first test flight in August 2016, was designed and manufactured in \_\_\_\_.

अगस्त 2016 में अपनी पहली परीक्षण उड़ान भरने वाले दुनिया के सबसे बड़े हाइब्रिड हवाई पोत एयरलैंडर 10 का डिजाइन और निर्माण \_\_\_\_ में किया गया था।

Ans

✗ 1. Russia

रूस

✗ 2. USA

संयुक्त राज्य अमेरिका

✗ 3. Germany

जर्मनी

✓ 4. UK

यूनाइटेड किंगडम

Question ID : 9888374612

Status : Not Attempted and Marked For Review

Chosen Option : --

Comprehension:

A family has 6 members P, Q, R, S, T, and U.

Q is the son of R, but R is not the mother of Q. P and R are a married couple. T is the brother of R. S is the daughter of P. U is the sister of Q.

एक परिवार में 6 सदस्य हैं: P, Q, R, S, T और U.

Q R का बेटा है, लेकिन R Q की माँ नहीं है। P और R एक विवाहित युगल हैं। T R का भाई है। S P की बेटी है। U Q की बहन है।

SubQuestion No : 47

Q.4 What is the ratio of Males to Females in this family?

7 परिवार में पुरुषों और महिलाओं का अनुपात क्या है?

- Ans
- ☒ 1. 5:1
  - ☒ 2. 2:1
  - ☒ 3. 1:1
  - ☒ 4. 1:2

Question ID : 9888374718

Status : Answered

Chosen Option : 3

Comprehension:

A family has 6 members P, Q, R, S, T, and U.

Q is the son of R, but R is not the mother of Q. P and R are a married couple. T is the brother of R. S is the daughter of P. U is the sister of Q.

एक परिवार में 6 सदस्य हैं: P, Q, R, S, T और U.

Q R का बेटा है, लेकिन R Q की माँ नहीं है। P और R एक विवाहित युगल हैं। T R का भाई है। S P की बेटी है। U Q की बहन है।

SubQuestion No : 48

Q.4 Who is the son of P?

8 P का बेटा कौन है?

- Ans
- ☒ 1. Q
  - ☒ 2. R
  - ☒ 3. None of the given options
  - ☒ 4. दिए गए विकल्पों में से कोई नहीं
  - ☒ 5. T

Question ID : 9888374717

Status : Answered

Chosen Option : 1

Comprehension:

A family has 6 members P, Q, R, S, T, and U.

Q is the son of R, but R is not the mother of Q. P and R are a married couple. T is the brother of R. S is the daughter of P. U is the sister of Q.

एक परिवार में 6 सदस्य हैं: P, Q, R, S, T और U.

Q R का बेटा है, लेकिन R Q की माँ नहीं है। P और R एक विवाहित युगल हैं। T R का भाई है। S P की बेटी है। U Q की बहन है।

SubQuestion No : 49

Q.4 How many brothers does U have?

9 U के कितने भाई हैं?

- Ans
- ☒ 1. 3
  - ☒ 2. 1

Question ID : 9888374719

Status : Answered

Chosen Option : 2

✗ 3. 2

None

✗ 4.

एक भी नहीं

Q.50 The Arjuna Awardee for 2016 in the discipline of Athletics was:

2016 में एथलेटिक्स के लिए अर्जुन पुरस्कार विजेता थे/थी:

Ans



1. Lalita Babar

ललिता बाबर



2. Amit Kumar Saroha

अमित कुमार सरोहा



3. M. R. Poovamma

एम. आर. पूवम्मा



4. Tintu Luka

टिंटू लुका

Question ID : 9888374625

Status : Answered

Chosen Option : 2

Q.51 Fill in the blanks:

The Constitution of India puts a limit on the size of the Lok Sabha to \_\_\_\_\_ elected members, apart from \_\_\_\_\_ members nominated by the President to represent the Anglo-Indian community.

रिक्त स्थान भरें:

भारत के संविधान के अनुसार लोकसभा के निर्वाचित सदस्यों की निर्धारित संख्या \_\_\_\_\_ है,

इसके अलावा एंग्लो-इंडियन समुदाय का प्रतिनिधित्व करने के लिए \_\_\_\_\_ सदस्य राष्ट्रपति द्वारा मनोनित किए जाते हैं।

Ans



1. 547 and 3

547 एवं 3



2. 543 and 2

543 एवं 2



3. 550 and 2

550 एवं 2



4.

Question ID : 9888374634

Status : Answered

Chosen Option : 3

Q.52

Ans



1.



2.



3.



4.

Question ID : 9888374705

Status : Answered

Chosen Option : 4

Q.53

Ans



1.



2.



3.



4.

Question ID : 9888374667

Status : Answered

Chosen Option : 2

Q.54

Ans



1.



2.



3.



4.

Question ID : 9888374630

Status : Not Attempted

Chosen Option : --

Q.55

Ans



1.




2.

Question ID : 9888374684

Status : Not Attempted and Mark  
ed For Review

Chosen Option : --



रेलवे भर्ती बोर्ड  
स्टडी किट

FOR HELP CALL  
011-45151781, 45041881

## रेलवे भर्ती बोर्ड (आरआरबी) परीक्षा अध्ययन सामग्री

- 100% Syllabus Covered
- 4 Comprehensive Books
- 1000 Pages
- Current Affairs (PDF)
- Practice MCQs
- Support and Guidance

Only  
~~₹6,000/-~~  
**₹1,995/-**  
70% Off

RRB PORTAL  
[www.rrbportal.com](http://www.rrbportal.com)

## रेलवे भर्ती बोर्ड (आरआरबी) एनटीपीसी परीक्षा के लिए अध्ययन सामग्री हमारी अध्ययन सामग्री में आप पाएँगे-

1. अध्यायवार M.C.Q
2. गणित एवं तार्किक क्षमता को हल करने की सरल विधि
3. अभ्यास प्रश्न

### आप क्या प्राप्त करेंगे?

- माध्यम: हिन्दी
- 100 प्रतिशत पाठ्यक्रम
- 838 पृष्ठ
- कुल 4 पुस्तिकायें
- हमारे विशेषज्ञों द्वारा मार्गदर्शन और सहायता

**For More Information Click Given below link:**

<http://www.rrbportal.com/study-kit-hindi>



## Online Test Series for Railway Recruitment Board Exams

- 100% Syllabus Covered
- All India Rank to Assess your Performance
- Answers of Questions with Reports
- Telephonic and Email Support.

**Price of OTS**  
**For 8 Test ₹ 999 ₹ 499**  
**For 15 Test ₹ 1799 ₹ 799**

**For Any Guidance Call our Expert at : +91 8800734161, 011-45151781**

### Online Test Series for Railway Recruitment Board (RRB) Exams

#### What you will get:

- 100% Syllabus Covered in printed format.
- Guidance & Support from Our Experts (via Call and Email)

#### Our Objectives:

- Firstly to cover 100% syllabus of the Examination.
- Secondly to compile all the required study materials in a single place, So to save the precious time of the aspirants.

#### Our Strategy:





- Content of every section of the syllabus is developed after a exhaustive research of last year Question Papers.
- Every section is covered with practice set

**For More Information Click Given below link:**

<http://www.rrbportal.com/online-test-series>





-  3.  
 4.

Q.56

- Ans  1.  
 2.  
 3.  
 4.





Question ID : 9888374696  
Status : Answered  
Chosen Option : 4

Q.57

- Ans  1.  
 2.  
 3.  
 4.





Question ID : 9888374731  
Status : Answered  
Chosen Option : 1

Q.58

- Ans  1.  
 2.  
 3.  
 4.





Question ID : 9888374722  
Status : Answered  
Chosen Option : 3

Q.59

- Ans  1.  
 2.  
 3.  
 4.





Question ID : 9888374637  
Status : Answered  
Chosen Option : 4

Q.60

- Ans  1.  
 2.  
 3.  
 4.





Question ID : 9888374618  
Status : Answered  
Chosen Option : 4

Q.61

- Ans  1.  
 2.  
 3.  
 4.





Question ID : 9888374639  
Status : Not Attempted  
Chosen Option : --

Q.62

- Ans  1.  
 2.  
 3.  
 4.

Question ID : 9888374658  
Status : Answered  
Chosen Option : 3

Q.63




- Ans  1.  
 2.  
 3.  
 4.

Question ID : 9888374633  
Status : Answered  
Chosen Option : 2

Comprehension:

SubQuestion No : 64

Q.6  
4

- Ans  1.  
 2.  
 3.  
 4.

Question ID : 9888374725  
Status : **Answered**  
Chosen Option : 1

Comprehension:





SubQuestion No : 65

Q.6  
5

- Ans  1.  
 2.  
 3.  
 4.





Question ID : 9888374724  
Status : **Answered**  
Chosen Option : 3

Q.66

- Ans  1.  
 2.  
 3.  
 4.





Question ID : 9888374629  
Status : **Answered**  
Chosen Option : 2

Q.67

- Ans  1.  
 2.  
 3.  
 4.




Question ID : 9888374616  
Status : **Answered**  
Chosen Option : 1

Q.68

- Ans  1.  
 2.  
 3.  
 4.





Question ID : 9888374680  
Status : **Answered**  
Chosen Option : 4

Q.69

- Ans  1.  
 2.  
 3.  
 4.

Question ID : 9888374623  
Status : **Answered**  
Chosen Option : 3

Q.70

- Ans  1.  
 2.  
 3.  
 4.

Question ID : 9888374622  
Status : **Answered**  
Chosen Option : 4

Q.71

- Ans  1.  
 2.

Question ID : 9888374648  
Status : **Answered**  
Chosen Option : 4

 3.

 4.

Q.72

Ans  1.

 2.

 3.

 4.

Question ID : 9888374659

Status : Answered

Chosen Option : 3

Q.73

Ans  1.

 2.

 3.

 4.

Question ID : 9888374670

Status : Answered

Chosen Option : 1

Q.74

Ans  1.

 2.

 3.

 4.

Question ID : 9888374614

Status : Answered

Chosen Option : 4

Q.75

Ans  1.

 2.

 3.

 4.

Question ID : 9888374734

Status : Answered

Chosen Option : 4

Q.76

Ans  1.

 2.

 3.

 4.

Question ID : 9888374661

Status : Answered

Chosen Option : 2

Q.77

Ans  1.

 2.

 3.

 4.

Question ID : 9888374692

Status : Answered

Chosen Option : 4

Q.78

Ans  1.

 2.

 3.

 4.

Question ID : 9888374615

Status : Answered

Chosen Option : 4

Q.79

Ans  1.

 2.

 3.





 4.

Question ID : 9888374697

Status : Answered





Chosen Option : 1

Q.80

- Ans  1.  
 2.  
 3.  
 4.




Question ID : 9888374651  
Status : Answered  
Chosen Option : 2

Q.81

- Ans  1.  
 2.  
 3.  
 4.





Question ID : 9888374626  
Status : Answered  
Chosen Option : 2

Q.82

- Ans  1.  
 2.  
 3.  
 4.

Question ID : 9888374669  
Status : Answered  
Chosen Option : 3

Q.83





- Ans  1.  
 2.  
 3.  
 4.

Question ID : 9888374640  
Status : Not Attempted and Mark  
ed For Review  
Chosen Option : --

Comprehension:

SubQuestion No : 84

Q.8  
4



- Ans  1.  
 2.  
 3.  
 4.

Question ID : 9888374729  
Status : Answered  
Chosen Option : 1

Comprehension:

SubQuestion No : 85

Q.8  
5





- Ans  1.  
 2.  
 3.  
 4.

Question ID : 9888374730  
Status : Answered  
Chosen Option : 2

Comprehension:

SubQuestion No : 86

Q.8  
6

- Ans  1.  
 2.  
 3.  
 4.

Question ID : 9888374727  
Status : Answered  
Chosen Option : 4

Comprehension:

SubQuestion No : 87

Q.8

7

- Ans
- ☒ 1.
  - ☒ 2.
  - ☒ 3.
  - ☒ 4.

Question ID : 9888374728  
Status : Answered  
Chosen Option : 4

Q.88

- Ans
- ☒ 1.
  - ☒ 2.
  - ☒ 3.
  - ☒ 4.

Question ID : 9888374621  
Status : Answered  
Chosen Option : 3

Q.89

- Ans
- ☒ 1.
  - ☒ 2.
  - ☒ 3.
  - ☒ 4.

Question ID : 9888374679  
Status : Not Attempted  
Chosen Option : --

Q.90

- Ans
- ☒ 1.
  - ☒ 2.
  - ☒ 3.
  - ☒ 4.

Question ID : 9888374712  
Status : Answered  
Chosen Option : 4

Q.91

- Ans
- ☒ 1.
  - ☒ 2.
  - ☒ 3.
  - ☒ 4.

Question ID : 9888374695  
Status : Not Attempted and Mark  
ed For Review  
Chosen Option : --

Q.92

- Ans
- ☒ 1.
  - ☒ 2.
  - ☒ 3.
  - ☒ 4.

Question ID : 9888374666  
Status : Not Attempted and Mark  
ed For Review  
Chosen Option : --

Q.93

- Ans
- ☒ 1.
  - ☒ 2.
  - ☒ 3.
  - ☒ 4.

Question ID : 9888374613  
Status : Not Attempted and Mark  
ed For Review  
Chosen Option : --

Q.94




- Ans
- ☒ 1.
  - ☒ 2.
  - ☒ 3.
  - ☒ 4.

Question ID : 9888374710  
Status : Not Attempted and Mark  
ed For Review  
Chosen Option : --




Q.95

Ans  1.  
 2.  
 3.  
 4.


Question ID : 9888374627  
 Status : Not Attempted and Marked For Review  
 Chosen Option : --

Q.96  
 Ans  1.  
 2.  
 3.  
 4.



Question ID : 9888374715  
 Status : Answered  
 Chosen Option : 4

Q.97  
 Ans  1.  
 2.  
 3.  
 4.





Question ID : 9888374694  
 Status : Not Attempted and Marked For Review  
 Chosen Option : --

Q.98  
 Ans  1.  
 2.  
 3.  
 4.



Question ID : 9888374675  
 Status : Not Attempted and Marked For Review  
 Chosen Option : --

Q.99  
 Ans  1.  
 2.  
 3.  
 4.




Question ID : 9888374676  
 Status : Not Attempted and Marked For Review  
 Chosen Option : --

Q.100  
 Ans  1.  
 2.  
 3.  
 4.

Question ID : 9888374655  
 Status : Answered  
 Chosen Option : 4

Q.101  
 Ans  1.  
 2.  
 3.  
 4.

Question ID : 9888374677  
 Status : Not Attempted  
 Chosen Option : --





Q.102  
 Ans  1.  
 2.  
 3.  
 4.

Question ID : 9888374665  
 Status : Answered  
 Chosen Option : 2

Q.103





Question ID : 9888374620



Ans  1.  
 2.  
 3.  
 4.





Status : **Answered**  
Chosen Option : 2

Q.10  
4

Ans  1.  
 2.  
 3.  
 4.





Question ID : **9888374714**  
Status : **Answered**  
Chosen Option : 2

Q.10  
5

Ans  1.  
 2.  
 3.  
 4.




Question ID : **9888374652**  
Status : **Answered**  
Chosen Option : 4

Q.10  
6

Ans  1.  
 2.  
 3.  
 4.





Question ID : **9888374644**  
Status : **Answered**  
Chosen Option : 4

Q.10  
7

Ans  1.  
 2.  
 3.  
 4.




Question ID : **9888374671**  
Status : **Not Attempted and Mark  
ed For Review**  
Chosen Option : --

Q.10  
8

Ans  1.  
 2.  
 3.  
 4.





Question ID : **9888374721**  
Status : **Answered**  
Chosen Option : 1

Q.10  
9

Ans  1.  
 2.  
 3.  
 4.

Question ID : **9888374689**  
Status : **Answered**  
Chosen Option : 2

Q.11  
0

Ans  1.  
 2.  
 3.  
 4.

Question ID : **9888374624**  
Status : **Not Attempted and Mark  
ed For Review**  
Chosen Option : --

Q.11  
1

- Ans
- ☒ 1.
  - ☒ 2.
  - ☒ 3.
  - ☒ 4.

Question ID : 9888374631  
Status : Answered  
Chosen Option : 2

Q.11  
2

- Ans
- ☒ 1.
  - ☒ 2.
  - ☒ 3.
  - ☒ 4.

Question ID : 9888374642  
Status : Answered  
Chosen Option : 3

Q.11  
3

- Ans
- ☒ 1.
  - ☒ 2.
  - ☒ 3.
  - ☒ 4.

Question ID : 9888374693  
Status : Answered  
Chosen Option : 3

Q.11  
4

- Ans
- ☒ 1.
  - ☒ 2.
  - ☒ 3.
  - ☒ 4.

Question ID : 9888374713  
Status : Answered  
Chosen Option : 4

Q.11  
5

- Ans
- ☒ 1.
  - ☒ 2.
  - ☒ 3.
  - ☒ 4.

Question ID : 9888374663  
Status : Answered  
Chosen Option : 2

Q.11  
6

- Ans
- ☒ 1.
  - ☒ 2.
  - ☒ 3.
  - ☒ 4.

Question ID : 9888374632  
Status : Answered  
Chosen Option : 4

Q.11  
7

- Ans
- ☒ 1.
  - ☒ 2.
  - ☒ 3.
  - ☒ 4.

Question ID : 9888374733  
Status : Answered  
Chosen Option : 1

Q.11  
8

- Ans
- ☒ 1.
  - ☒ 2.

Question ID : 9888374657  
Status : Answered  
Chosen Option : 1

 3.

 4.

Q.11  
9

Ans  1.

 2.

 3.

 4.

Question ID : 9888374673

Status : Answered

Chosen Option : 1

Q.12  
0

Ans  1.

 2.

 3.

 4.

Question ID : 9888374664

Status : Answered

Chosen Option : 4

## Postal Test Series for Railway Recruitment Board Exams

- 100% Syllabus Covered
- Evaluate your performance section wise
- Answers of Questions with Reports
- Telephonic and Email Support.

Price of Test Series  
For 15 Test ₹ 1499 ₹ 999

**For Any Guidance Call our Expert at : +91 8800734161, 011-45151781**

### Postal Test Series Programme For Railway Recruitment Board (RRB) Exams

#### What you will get:

- You will get 15 comprehensive test (English Medium).
- OMR sheets will be provided to the candidate along with the test papers.
- Answers of the test would be sent along with the test papers
- Guidance & Support from Our Experts (via Call and Email)

#### Our Objectives:

- Formulate the question in accordance with latest RRB pattern that is concept based.
- Evaluate your performance section wise so that you would able to know your weaker section.
- Then evaluate your performance in a comprehensive manner.


#### Our Strategy:

- Content of every section of the syllabus is developed after a exhaustive research of last year Question Papers.
- Every section is covered with practice set.

**For More Information Click Given below link:**

<http://www.rrbportal.com/test-series/postal-rrb>

# Study Kit for RRB (Tier - 2) Exam



➤ 100% Syllabus Covered

➤ 4 Booklets

➤ 950+ Pages

➤ One Year Current Affairs (Only PDF no Hard Copy)

**Price of the Kit**  
~~₹ 6,000~~ ₹ 1999

**For Any Guidance Call our Expert at : +91 8800734161, 011-45151781**

## Study Kit for Railway Recruitment Board (RRB) "Tier -2" Exam

### What you will get:

- 100% Syllabus Covered in printed format.
- 3 Booklets
- 750+ Pages
- **One Year Current Affairs (PDF Copy)**
- Guidance & Support from Our Experts (via Call and Email)

### Our Objectives:

- Firstly to cover 100% syllabus of the Examination.
- Secondly to compile all the required study materials in a single place, So to save the precious time of the aspirants.

**For More Information Click Given below link:**

<http://www.rrbportal.com/study-kit/Railway-NTPC-tier-2-Exam>

## Postal Test Series for Railway Recruitment Board (Tier -2) Exam

- 100% Syllabus Covered
- Evaluate your performance section wise
- Answers of Questions with OMR Sheet
- Telephonic and Email Support.

**:: Price ::**  
**For 15 Test ₹ 1499 ₹ 799**

**For Any Guidance Call our Expert at : +91 8800734161, 011-45151781**

## Postal Test Series Programme For Railway Recruitment Board (RRB) Tier -2 Exam (English Medium)

### What you will get:

- You will get 15 comprehensive test (English Medium).
- OMR sheets will be provided to the candidate along with the test papers.
- Answers of the test would be sent along with the test papers
- Guidance & Support from Our Experts (via Call and Email)

### Our Objectives:

- Formulate the question in accordance with latest RRB Tier -2 pattern that is concept based.
- Evaluate your performance section wise so that you would able to know your weaker section.
- Then evaluate your performance in a comprehensive manner.

**For More Information Click Given below link:**

<http://rrbportal.com/test-series/postal-rrb-ntpc-tier-2>